



Министерство науки и высшего образования
Российской Федерации

Братский педагогический колледж

федерального государственного бюджетного
образовательного учреждения высшего образования
«Братский государственный университет»

Математика

Практические рекомендации «Решение логарифмических уравнений»

для студентов
очной формы обучения

Автор: В.А. Савкина

Братск, 2021

Практические рекомендации по дисциплине «Математика» «Решение логарифмических уравнений» для студентов специальности очной формы обучения для студентов очной формы обучения / Сост. В.А. Савкина - Братск.: БПК ФГБОУ ВО «БрГУ», 2021 г. – 25 с.

Сборник содержит алгоритм решения логарифмических уравнений разного уровня, что способствует развитию навыков математического мышления обучающихся.

Печатается по решению научно-методического совета
Братского педагогического колледжа ФГБОУ ВО «БрГУ»
665709, г. Братск, ул. Макаренко 40

Содержание

Глава 1. Теоретические основы	4
1. Основные понятия Логарифмы и их свойства	4
2. Логарифмическая функция	4
Глава 2. Применение методов на практике. Решение логарифмических уравнений	6
Заключение	23
Перечень рекомендуемых учебных изданий, дополнительной литературы, Интернет-ресурсов.	24

Глава 1. Теоретические основы.

1.1 Основные понятия. Логарифмы и их свойства

Рассмотрим уравнение $a^x = b$, при $a > 0$ и $a \neq 1$. При $b \leq 0$ это уравнение не имеет решений и при $b > 0$ имеет единственное решение. Данное решение называют логарифмом по основанию a и обозначают $\log_a b$. Логарифмом числа b по основанию a называется показатель степени, в которую необходимо возвести число a , чтобы получилось число b :

$\log_a b = x$. Это равенство называют основным логарифмическим тождеством

Свойства логарифмов

При $a > 0$ и $a \neq 1$, $x > 0$, $y > 0$ и действительном p имеют место равенства:

1. $\log_a 1 = 0$;
2. $\log_a a = 1$;
3. $\log_a xy = \log_a x + \log_a y$;
4. $\log_a x / y = \log_a x - \log_a y$;
5. $\log_a x^p = p \log_a x$

Формула перехода к новому основанию:

$$\log_a x = \log_b x / \log_b a$$

Логарифм, основанием которого является число 10, называют десятичным логарифмом и обозначают

$$\lg a = \log_{10} a.$$

Логарифм, основанием которого является число e , называют натуральным логарифмом и обозначают

$$\ln a = \log_e a$$

1.2 Логарифмическая функция

Определение. Функцию вида $y = \log_a x$, где $a > 0$ и $a \neq 1$ называют логарифмической функцией с основанием a . Основные свойства логарифмической функции:

- а) Область определения логарифмической функции есть множество положительных вещественных чисел - \mathbb{R}^+ .
- б) Область значения логарифмической функции есть множество вещественных чисел.

Если основание логарифмической функции $a > 1$, то функция возрастает на всей области определения.

Если же для основания логарифмической функции имеет место неравенство $0 < a < 1$, то логарифмическая функция убывает на всей области определения.

График логарифмической функции всегда проходит через точку $(1;0)$.

Возрастающая логарифмическая функция положительна при $x > 1$ и отрицательна при $0 < x < 1$

Убывающая логарифмическая функция отрицательна при $x > 1$ и положительна при $0 < x < 1$. График возрастающей логарифмической функции - ($a > 1$):

Глава 2. Применение методов на практике.

Решение логарифмических уравнений.

Рассмотрим применение приведенных методов при решении логарифмических уравнений.

1) Используя определение логарифма

Решить уравнения:

а) $\log_2(x - 7) = 3$

б) $\lg(2x + 6) / (x - 1) = 1$

Решения: а) $\log_2(x - 7) = 3$

$$x - 7 = 2^3$$

$$x = 15$$

Проверка: $\log_2(15 - 7) = 3, 3 = 3 \Rightarrow 15$ является решением.

Ответ: 15

б) $\lg(2x + 6) / (x - 1) = 1$

$$2x + 6 / x - 1 = 10$$

$$2x + 6 = 10x - 10$$

$$8x = 16$$

$$x = 2$$

Сделав проверку, убеждаемся в том, что $x = 2$ наше решение.

Ответ: 2.

2) Потенцирование

Решить уравнения:

а) $\log_3(x + 1) + \log_3(x + 3) = \log_3 3$

б) $\lg(x^2 + 2x - 7) - \lg(x - 1) = 0$

Решения: а) $\log_3(x + 1) + \log_3(x + 3) = \log_3 3$

ОДЗ: $\{ x + 1 > 0, x + 3 > 0 \Rightarrow x \in (-1, +\infty)$

Используя свойство логарифмов, получаем:

$$\log_3(x+1)(x+3) = \log_3 3$$

$$(x+1)(x+3) = 3$$

$$x^2 + 4x + 3 = 3$$

$$x^2 + 4x = 0$$

$$x_1 = 0$$

$$x_2 = -4$$

Учитывая ОДЗ, получаем решение $x = 0$.

Ответ: 0.

б) $\lg(x^2 + 2x - 7) - \lg(x - 1) = 0$

ОДЗ: $\{ x^2 + 2x - 7 > 0, x - 1 > 0 \Rightarrow x \in (-1 + 2\sqrt{2}, +\infty)$

$$\lg(x^2 + 2x - 7) = \lg(x - 1)$$

$$x^2 + 2x - 7 = x - 1$$

$$x^2 + x - 6 = 0$$

$$x_1 = -3,$$

$$x_2 = 2$$

С учетом ОДЗ получаем $x = 2$.

Ответ: 2.

Уравнения, в которых неизвестное находится под знаком логарифма, называются **логарифмическими**.

Пусть $a > 0, a \neq 1, u > 0, v > 0$. Если $\log_a u = \log_a v$, то $u = v$.

Доказательство: воспользовавшись основным логарифмическим тождеством и условием, получим:
$$u = a^{\log_a u} = a^{\log_a v} = v.$$

При решении логарифмических уравнений обязательно учитывается область определения логарифма.

Если область определения найти сложно, можно проверить полученные корни подстановкой в уравнение.

Решение уравнений по определению логарифма

Пример 1. Решите уравнение $\log_2 x = 2$

Решение. По определению логарифма имеем $x = 4$

Число 4 входит в область определения, следовательно, является корнем данного уравнения.

Ответ: 4

Задание 1. Решите уравнение:

1) $\log_3 x = 3$

2) $\log_6 x = 3$

3) $\log_2 x = 0$

4) $\log_2(-x) = -5$

5) $\log_4 x = -2$

6) $\log_5 x = -3$

7) $\log_5 x = 1$

Пример 2. Решите уравнение $\log_2(x - 1) = 2$

Решение. По определению логарифма имеем $x - 1 = 4$ Отсюда $x = 5$.

Число 5 входит в область определения, следовательно, является корнем данного уравнения.

Ответ: 3

Пример 3. Найдите корень уравнения $\log_3(x-1) = 4$

Решение. По определению логарифма получаем:

$x-1=81 \Leftrightarrow x=82$. Число 82 входит в область определения $(82-1>0)$, следовательно, является корнем уравнения.

Ответ: 82

Пример 4. Найдите корень уравнения $\lg(2x-4) = 2$

Решение. По определению логарифма получаем: $2x-4=100$

$\Leftrightarrow x=52$. Число 52 входит в область определения

$(2 \cdot 52 - 4 = 100 > 0, 82 - 1 > 0)$, следовательно, является корнем уравнения.

Ответ: 52

Задание 2. Решите уравнение...

1) $\log_{1/4}(2x-1) = 1$

2) $\log_{1/2}(2x-4) = -2$

3) $\log_2(3-x) = 3$

4) $\log_{1/2}(3x-5) = -1$

5) $\log(4x-3) = 2$

6) $\log(6x-1) = 1$

7) $\log(2x+6.5) = 1$

Пример 5. Решите уравнение $\log(x^2-2x) = 1$

Решение. По определению логарифма имеем

$$x^2 - 2x - 3 = 0$$

$$D=16, x_1=3, x_2=-1.$$

Оба корня удовлетворяют исходному уравнению.

Ответ: 3; -1

Пример 6. Решите уравнение $\log_2(x^2-14x) = 5$.

Решение. По определению логарифма: $x^2 - 14x - 32 = 0$

Отсюда $x = -2, x = 16$; **Ответ:** -2, 16

Задание 3. Решите уравнение...

1) $\log_2(x^2+4x+3) = 3$

2) $\log(x^2+2x-3) = 3$

3) $\log(3-x^2) = -1$

4) $\log(x-1)^2 = 1$

5) $\log(x^2-8x) = 2$

Пример 7. Решите уравнение $\log 16 = 2$

Решение. По определению логарифма $x > 0, x \neq 1$ и $x^2 = 16$.

Отсюда, $x = -4$ или $x = 4$.

Поскольку $x > 0$, то решением данного уравнения является корень $x=4$.

Ответ: 4

Задание 4. Решите уравнение...

1) $\log_x 4=2$

2) $\log_x \sqrt{2}=1,5$

3) $\log_x 81= - 4$

4) $\log_x 1=2$

5) $\log_x 1=6$

6) $\log_x 16=4$

Пример 8. Решите уравнение $\log_{x-1} 16 = 2$

Решение. По определению логарифма $(x-1)^2 = 16$.
Отсюда $x-1=4$ или $x-1=-4$. $x=3$ или $x=-3$.

Поскольку $x > 1$, то решением данного уравнения является корень $x=3$.

Ответ: 3

Пример 9. Решите уравнение. $\log_{x-1} 36 = 2$

Решение. С учетом области определения: $\Leftrightarrow \begin{cases} (x-1)^2 = 36, \\ x-1 > 0, \\ x-1 \neq 1 \end{cases}$

$$\Leftrightarrow \begin{cases} (x-1)^2 = 36, \\ x > 1, \\ x \neq 0 \end{cases} \Leftrightarrow \begin{cases} x-1 = \pm 6, \\ x > 1, \\ x \neq 0 \end{cases} \Leftrightarrow \begin{cases} x = 7, \\ x = -5, \\ x > 1, \\ x \neq 0 \end{cases} \Leftrightarrow x = 7$$

Ответ: 7

Задание 5. Решите уравнение

1) $\log_{x+1} 4 = 2$

2) $\log_{1-x} 2 = 2$

3) $\log_x 22 = 2$

4) $\log x + 116 = 4$

5) $\log_2 x - 9 = 2$

6) $\log x - 14 = 2$

Пример 10. Решите уравнение. $\log(3x^2 + 2x - 1) = 2$

Решение. Исходное уравнение равносильно системе:

$$\begin{cases} x + 1 > 0, \\ x + 1 \neq 1, \\ 3x^2 + 2x - 1 = (x + 1)^2 \end{cases} \Leftrightarrow \begin{cases} x > -1, \\ x \neq 0, \\ 3x^2 + 2x - 1 = x^2 + 2x + 1 \end{cases}$$

Найдем корни уравнения: $3x^2 + 2x - 1 = x^2 + 2x + 1$

$$2x^2 = 2, x^2 = 1; x = -1 \text{ или } x = 1.$$

Так как $x > -1$, $x \neq 0$, то $x = -1$ не является решением исходного уравнения

Ответ: 1

Пример 11. Решите уравнение $\log_{20} \log_3 \log_2 x = 0$

Решение. По определению логарифма; $\log_3 \log_2 x = 20^0 = 1$

$$\log_2 x = 3. x = 8$$

Ответ: 8

Задание 6. Решите уравнения: 1) $\log_7 \log_2 \log_{13} x = 0$

2) $\log_2 \log_2 \log_2 x = 1$

3) $\log_6 \log_5 \log_4 x = 0$

4) $\log_5 \log_4 \log_3 x = 0$

5) $\lg \log_4 \log_3 x = 0$

6) $\lg \lg \log_3 x = 0$

Метод потенцирования или метод, основанный на равенстве логарифмов

Пример 11. Решите уравнение $\log_5(2x+3) = \log_5(x+1)$

Решение. Это уравнение определено для тех значений x , при которых выполняются неравенства $2x+3 > 0$ и $x+1 > 0$.

Для этих x данное уравнение равносильно уравнению $2x+3 = x+1$. Отсюда $x = -2$. Число -2 не удовлетворяет неравенству $x+1 > 0$, следовательно, данное уравнение не имеет решений.

Ответ: нет решений

Пример 12. Найдите корень уравнения. $\log_5(x-4) = \log_5 6$

Решение. Последовательно получаем: $\log_5(x-4) = \log_5 6 \Leftrightarrow x-4=6 \Leftrightarrow x=10$. Число 10 входит в область определения ($10 - 4 = 6 > 0$), значит, является корнем уравнения.

Ответ: 10

Пример 13. Решите уравнение $\log_7(x^2+2x) = \log_7(x^2+6)$

Решение. $\log_7(x^2+2x) = \log_7(x^2+6) \Leftrightarrow x^2+2x = x^2+6 \Leftrightarrow$

$$2x = 6 \Leftrightarrow x = 3$$

Выполнив проверку, убеждаемся, что 3 является корнем уравнения.

Ответ: 3

Пример 14. Найдите корень уравнения

$$\log_2(x-7) - \log_2(11-x) = 0$$

Решение. Перенесем $\log_2(11-x)$ в правую часть уравнения.

Получим уравнение, равносильное данному: $\log_2(x-7) = \log_2(11-x)$

$$\text{Отсюда } x-7 = 11-x \Leftrightarrow 2x = 18 \Leftrightarrow x = 9.$$

Делаем проверку: $9-7=2>0$, $11-9=2>0$. Значит, число 9 является корнем уравнения.

Ответ: 9

Сведение к квадратному уравнению

Пример 15. Решите уравнение

$$\log_2^2(x-1) - 5\log_2(x-1) - 6 = 6$$

Решение. Обозначив $\log_2(x-1)$ через a , получим уравнение $a^2 - 5a - 6 = 0$, откуда $a = -1$ или $a = 6$.

Таким образом, данное уравнение равносильно совокупности двух уравнений: $\log_2(x-1) = -1$ или $\log_2(x-1) = 6$

Решая первое уравнение, получаем $x-1 = 2^{-1}$, откуда $x = 1,5$.

Решая второе уравнение, получаем $x-1 = 2^6$, откуда $x = 65$.

Ответ: 1,5; 65

Задание 7. Решите уравнение...

1) $\log_5^2 x - \log_5 x = 2$

2) $\log_2 4 \log_2^2 3x - \log_3 x = 0$

3) $\log_2^2 5x - 5 \log_5 x + 6 = 0$

4) $3 \lg x^2 - \lg^2(-x) = 9$

5) $\lg^2 x - 3 \lg x - 4 = 0$

Решение уравнений с использованием свойств логарифмов

Пример 16. Решите уравнение $2 \lg(x-1) = \lg(5x+1)$.

Решение. По свойствам логарифма данное уравнение равносильно уравнению $(x-1)^2 = 5x+1$.

$$x^2 - 2x + 1 = 5x + 1; x^2 - 7x = 0; x(x-7) = 0. \text{ Отсюда } x=0 \text{ и } x=7.$$

Число 0 не входит в область определения

Ответ: 7

Задание9. Решите уравнение...

1) $2\log_{0,2}x = \log_{0,2}(5x^2 - x)$

2) $\log_{0,5}(6-x) = 2\log_{0,5}x$

3) $\lg(4x-3) = 2\lg x$

4) $\lg(12x - x^2 - 19) = 2\lg(x-1)$

5) $2\lg(x-1) = \lg(1,5x + 1)$

6) $2\lg(x-2) = 3\lg x$

Пример 17. Решите уравнение.

$$\log_5 2x + \log_5 x = \log_5 8$$

Решение. По свойствам логарифма данное уравнение равносильно уравнению $\log_5 2x^2 = \log_5 8$

$$2x^2 = 8; x^2 = 4; x = -2 \text{ или } x = 2.$$

С учетом того что $x > 0$ получим ответ $x = 2$.

Ответ: 2

Пример 18 . Решите уравнение

$$\log_3(x-1) = \log_3(2-x) + 1$$

Решение. $1 = \log_3 3$, тогда $\log_3(x-1) = \log_3(2-x) + 1$

$$\Leftrightarrow \log_3(x-1) = \log_3(2-x) + \log_3 3$$

По свойствам логарифма получаем: $\Leftrightarrow \log_3(x-1) = \log_3(2-x)3$

$$\Leftrightarrow x-1 = 6-3x \Leftrightarrow 4x = 5 \Leftrightarrow x = 1,25$$

Выполним проверку: $1,25 - 1 = 0,25 > 0$. $2 - 1,25 = 0,75 > 0$.

Значит, число 1,25 является корнем уравнения.

Ответ: 1,25

Задание8. Решите уравнение... 1) $\log_2(6-x) + \log_2(8-x) - \log_2(3-x) = 4$

2) $\lg(8x) - \lg(4x) = 0$

3) $\log_4(2x+1) - \log_4(1-2x) = \log_4 x$

4) $\log_5(x+8) - \log_5(x+1) = 3\log_5 2$

5) $\lg(3x^2 + 12x + 19) - \lg(3x+4) = 1$

6) $\lg(x^2 - 2x + 1) - \lg(x - 1) = 1$

7) $\lg(6x) - \lg(2x) = 0$

Метод приведения к одному основанию

Пример 19

Решите уравнение $\log_2 x + \log_4 x + \log_8 x = 11$

Решение. Перейдем к основанию 2:

$$\log_2 x + 1/2 \log_2 x + 1/3 \log_2 x = 11$$

$$11/6 \log_2 x = 11$$

$$\log_2 x = 6$$

$$x = 2^6; x = 64.$$

Ответ: 64

Задание 9. Решите уравнение...

1) $\log_4 x - \log_{16} x = 0,5$

2) $\log_2 x + \log_8 x = -4$

3) $\log_5 x - \log_{0,2} x = 1$

4) $\log_4(2-x) = \log_2 3$

5) $\log_2 x + \log_8 x = 8$

6) $\log_3 x + \log_9 x + \log_{1/3} x = 2$

7) $\log_4 x - \log_{0,25} x = 1$

Задание 10. Решите уравнение... 1) $5^{\log_4 x + 3\log_x 4} = 8$

2) $\log_2 x + 3\log_x 8 = 4$

3) $4\log_{25}(x-1) - \log_3 27 + 2\log_x -15 = 1$

4) $\log 4x + \log x = 1/16 = 1$

5) $\log_5 x - \log_x 5 = 1,5$

6) $\log_7 x - \log_x 7 = 2$

Метод логарифмирования

Обычно логарифмируют уравнение вида $f(x)^{g(x)} = h(x)$.

Пример 20. Решите уравнение

$$x^{\lg x} = 100x$$

Решение. Учитывая, что $x > 0$, прологарифмируем обе части уравнения по основанию 10: $\lg x^{\lg x} = \lg 100x$

$$\Leftrightarrow \lg^2 x - \lg x - 2 = 0$$

Решая уравнение относительно x , получим: \Leftrightarrow

$$\lg x = -1, \lg x = 2$$

$$x = 10^{-1} x = 10^2$$

Ответ: 0,1; 100

Задание 11. Решите уравнение...

1) $x^{\log_5 x} = 1/25$

2) $x \lg x = 0,1x^2$

3) $x^{2\lg x} - 10x = 0$

4) $x^{\lg x} = 100x^2$

Уравнения с дополнительными условиями

Пример 21. Найдите сумму корней уравнения произведение корней уравнения

$$x^{2 + \log_2 x} = 8.$$

Решение. Прологарифмируем обе части уравнения по основанию 2:

$$\log_2 x^{2 + \log_2 x} = \log_2 8; (2 + \log_2 x) \log_2 x = 3;$$

$$2 \log_2 x + \log_2^2 x - 3 = 0; D=16; \log_2 x = -3; x = \frac{1}{8};$$

$$\log_2 x = 1; x=2.$$

Сумма корней данного уравнения равна $2 + \frac{1}{8} = 2\frac{1}{8}$.

Ответ: $2\frac{1}{8}$

1) сумму корней уравнения

$$\log_{x+19} (2x^2 + 36x + 1) = \log_4 8 + \cos^2 \frac{117\pi}{4}$$

2) наименьший корень уравнения $x(\lg 5 - 1) \lg(2^x + 1) - \lg 6$

3) произведение корней уравнения

$$\lg^2(100x) + \lg^2(10x) = 14 \lg x + 15$$

4) среднее арифметическое корней уравнения

$$\log_{x^2-1} (x^3 + 6) = \log_{x^2-1} (4x^2 - x)$$

5) произведение корней уравнения

$$\log_{x^2-8} (4-x)^6 = \log_8 (4-x)^6$$

6) произведение корней уравнения $x^{4 - \log_3 x} = 9$

Задание 17. Найдите...

1) сумму корней уравнения

$$\log_{x+19} (2x^2 + 36x + 1) = \log_4 8 + \cos^2 \frac{117\pi}{4}$$

2) наименьший корень уравнения $x(\lg 5 - 1) \lg(2^x + 1) - \lg 6$

3) произведение корней уравнения

$$\lg^2(100x) + \lg^2(10x) = 14 \lg x + 15$$

4) среднее арифметическое корней уравнения $\log_{x^2-1}(x^3+6) = \log_{x^2-1}(4x^2-x)$

5) произведение корней уравнения $\log_{x^2-8}(4-x)^6 = \log_8(4-x)^6$

6) произведение корней уравнения $x^{4-\log_3 x} = 9$

Пример 30. Найдите положительный корень уравнения $\log_3(2x-1) + \log_3(x-2) = 3 + \log_2 1$.

Решение. Применив свойства логарифма, получим уравнение, равносильное данному: $(2x-1)(x-2) = 8$.

$$2x^2 - 5x + -5 = 0; D=65; x_1 = \frac{5 + \sqrt{65}}{4}; x_2 = \frac{5 - \sqrt{65}}{4}$$

Положительным является корень $x_1 = \frac{5 + \sqrt{65}}{4}$.

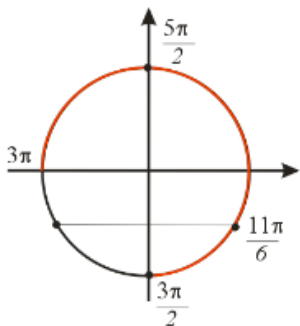
Ответ: $\frac{5 + \sqrt{65}}{4}$

Пример 22. Решите уравнение $\log_2(\cos x + \sin 2x + 8) = 3$.
Найдите все корни этого уравнения, принадлежащие промежутку $\left[\frac{3\pi}{2}; 3\pi\right]$.

Решение. Из данного уравнения получаем:
 $\log_2(\cos x + \sin 2x + 8) = 3 \Leftrightarrow \cos x + \sin 2x + 8 = 8 \Leftrightarrow$
 $\cos x + \sin 2x = 0 \Leftrightarrow \cos x + 2\sin x \cos x = 0 \Leftrightarrow$

$$\cos x(1 + 2\sin x) = 0 \Leftrightarrow \begin{cases} \cos x = 0, \\ \sin x = -\frac{1}{2} \end{cases} \Leftrightarrow \begin{cases} x = \frac{\pi}{2} + \pi k, k \in Z \\ x = (-1)^k \left(-\frac{\pi}{6}\right) + \pi k, k \in Z \end{cases}$$

С помощью числовой окружности найдем корни, принадлежащие отрезку $\left[\frac{3\pi}{2}; 3\pi\right]$:



$$\frac{3\pi}{2}; \frac{11\pi}{6}; \frac{5\pi}{2}$$

Получим числа:

Ответ: $\left\{ \frac{\pi}{2} + \pi k; (-1)^k \left(-\frac{\pi}{6}\right) + \pi k, k \in \mathbb{Z} \right\}; \frac{3\pi}{2}; \frac{11\pi}{6}; \frac{5\pi}{2}$

Пример 32. Решите уравнение

$$2 \log_2^2(2 \cos x) - 5 \log_2(2 \cos x) + 2 = 0$$

. Найдите все корни этого уравнения, принадлежащие промежутку $[0; \pi]$.

Решение. По определению логарифма $\cos x > 0$.

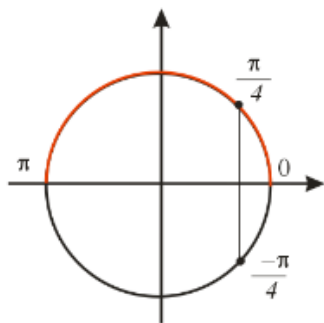
Решим квадратное уравнение относительно $\log_2(2 \cos x)$:

$$D = 9; \log_2(2 \cos x) = \frac{5-3}{4} = \frac{1}{2}; \log_2(2 \cos x) = \frac{5+3}{4} = 2$$

$$\log_2(2 \cos x) = \frac{1}{2}; \cos x = \frac{\sqrt{2}}{2}; x = \pm \frac{\pi}{4} + 2\pi k, k \in \mathbb{Z} \quad \text{С}$$

учетом $\cos x > 0$: $x = \frac{\pi}{4} + 2\pi k, k \in \mathbb{Z}$. $\log_2(2 \cos x) = 2; \cos x = 2$
- нет решений.

Найдём корни, лежащие на отрезке $[0; \pi]$:



Получим число: $\frac{\pi}{4}$.

Ответ: $\left\{ x = \frac{\pi}{4} + 2\pi k, k \in Z \right\}; \frac{\pi}{4}$

$$\frac{(tgx + \sqrt{3}) \log_3 (2 \sin^2 x)}{\log_5 (\sqrt{2} \cos x)} = 0$$

Пример 33. Решите уравнение
Найдите все корни этого уравнения, принадлежащие промежутку

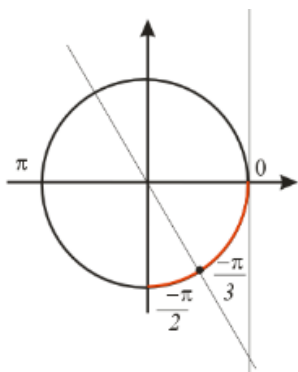
$$\left[0; -\frac{\pi}{2} \right]$$

Решение. С учетом области определения логарифма

получаем:
$$\frac{(tgx + \sqrt{3}) \log_3 (2 \sin^2 x)}{\log_5 (\sqrt{2} \cos x)} = 0 \Leftrightarrow \begin{cases} tgx + \sqrt{3} = 0, \\ 2 \sin^2 x = 1, \\ \sin x \neq 0, \\ \cos x > 0 \end{cases} \Leftrightarrow$$

$$\begin{cases} tgx = -\sqrt{3}, \\ \cos x > 0 \end{cases} \Leftrightarrow \begin{cases} x = -\frac{\pi}{3} + \pi k, k \in Z, \\ \cos x > 0 \end{cases}$$

Найдем корни, лежащие на отрезке $\left[0; -\frac{\pi}{2} \right]$:



На указанном отрезке всего один корень $-\frac{\pi}{3}$

Ответ: а) $\left\{-\frac{\pi}{3} + \pi k, k \in \mathbb{Z}\right\}$ б) $-\frac{\pi}{3}$

Задание 18. Найдите положительный корень уравнения

- 1) $\log_2(4 \cdot 3^x - 6) - \log_2(9^x - 6) = 1$
- 2) $x + \lg(1 + 2^x) = x \lg 5 + \lg 6$
- 3) $\lg(3x^2 + 12x + 19) - \lg(3x + 4) = 1$
- 4) $2\log_3(x - 2) + \log_3(x - 4)^2 = 0$
- 5) $\log_2(4^x + 4) = x + \log_2(2^{x+1} - 3)$
- 6) $x + \lg(1 + 2^x) = x \lg 5 + \lg 6$

Пример 34. Решите уравнение

$$\log_3(2\sin x + \cos x) - \log_3 \cos x = 0$$

Решение. Исходное уравнение равносильно уравнению

$$\frac{2\sin x + \cos x}{\cos x} = 1; \quad 2\operatorname{tg} x + 1 = 1; \quad \operatorname{tg} x = 0. \quad x = \pi k, \quad k \in \mathbb{Z}.$$

Ответ: $x = \pi k, k \in \mathbb{Z}$

Задание 12. Решите уравнение

$$1) \log_2(3\sin x - \cos x) + \log_2 \cos x = 0$$

- 2) $\log(3\sin x - \cos x) = -\log \cos x$
 4) $\log_2(\cos x - \sin x) + \log_2 \sin x = 2$
 5) $\log_{0,1} \sin 2x + \lg \cos x = \lg 7$
 6) $\log_3(2\cos x - \sin x) = \log_3 \cos x$

Уравнения с параметром

Пример 1. При каких значениях параметра a уравнение $\log(4^x + 8a^2) = x$

имеет два различных корня?

Решение. По определению логарифма $2^x = 4^x + 8a^2$

$2^{2x} - 2^x + 8a^2 = 0$ - это показательное уравнение сводится к квадратному и имеет два различных корня, если $D > 0$.

$D = 1 - 32a^2 > 0$. Решая это неравенство, получаем $16a^2 < 1$;
 $a^2 < \frac{1}{16}$.

Отсюда $-\frac{1}{4} < a < \frac{1}{4}$.

Ответ: $[-\frac{1}{4}; \frac{1}{4}]$

Пример 2 Найдите все значения параметра a , при каждом из которых уравнение $x^3 + 2x^2 - x \log_2(a-1) + 4 = 0$ имеет единственное решение на отрезке $[-1; 2]$.

Решение. Пусть $\log_2(a-1) = b$. Рассмотрим уравнение $x^3 + 2x^2 - xb + 4 = 0$. Число $x=0$ не является корнем этого уравнения ни при каком значении параметра b . Поэтому это

уравнение равносильно уравнению $b = x^2 + 2x + \frac{4}{x}$.

Рассмотрим функцию $f(x) = x^2 + 2x + \frac{4}{x}$ и для уравнения $f(x) = b$ определим число корней и их расположение для каждого значения параметра b .

$$f'(x) = 2x + 2 - \frac{4}{x^2} = \frac{2(x-1)(x^2 + 2x + 2)}{x^2}$$

. Отсюда следует, что на промежутках $(-\infty; 0), (0; 1]$ функция убывает, а на промежутке $[1; +\infty)$ возрастает. Следовательно, точка $x=1$ точка минимума, а минимум равен 7.

Из полученных свойств функции следует, что при любом значении b данное уравнение имеет ровно один отрицательный корень, и поскольку $f(-1) = -5$, то при $b \leq -5$ уравнение имеет ровно один корень на отрезке $[-1; 2]$; при $-5 < b < 7$ уравнение не имеет корней на $[-1; 2]$.

При $b=7$ уравнение имеет единственный корень $x=1$ на отрезке $[-1; 2]$.

Поскольку $f(2) = 10$, то при $7 < b \leq 10$ на отрезке уравнение имеет ровно два корня. При $b > 10$ уравнение также имеет единственный корень на отрезке.

$$\log_2(a-1) \leq -5, \quad 1 < a \leq \frac{33}{32}; \quad \log_2(a-1) = 7, \quad a = 129; \\ \log_2(a-1) > 10, \quad a > 1025.$$

$$(1; \frac{33}{32}) \cup \{129\} \cup (1025; +\infty)$$

Ответ:

Пример 3. Найдите все значения a , при которых уравнение $\log_{x+1}(a+x-6) = 2$ имеет хотя бы один корень, принадлежащий промежутку $(-1; 1]$.

Решение. Уравнение $\log_{x+1}(a+x-6) = 2$ равносильно системе

$$\begin{cases} x^2 + x + 7 - a = 0, \\ x > -1, \\ x \neq 0 \end{cases}$$

Эта система имеет хотя бы один корень, принадлежащий промежутку если уравнение $\log_{x+1}(a+x-6)=2$ имеет хотя бы один корень, принадлежащий либо промежутку $(-1;0)$, либо промежутку $(0;1]$.

Поскольку графиком функции $f(x)=x^2+x+7-a$ является парабола, ветви которой направлены вверх, а вершина находится в точке $x=-0,5$, уравнение $x^2+x+7-a=0$ имеет хотя бы один корень, принадлежащий промежутку $(-1;0)$ при условии $\begin{cases} f(-0,5)<0, \\ f(-1)=f(0)>0, \end{cases} \begin{cases} 6,75-a<0, \\ 7-a>0, \end{cases} 6,75<a<7.$

Уравнение $x^2+x+7-a=0$ имеет хотя бы один корень, принадлежащий промежутку $(0;1]$ при условии $\begin{cases} f(0)<0, \\ f(1)\geq 0, \end{cases} \begin{cases} 7-a<0, \\ 9-a\geq 0, \end{cases} 7<a\leq 9.$

Ответ: $(6,75;7)\cup(7;9]$

Задание13. При каких значениях параметра $a...$

- 1) графики функций $y = 9^x$ и $y = \log_a(-x)$ пересекаются в точке с абсциссой $x = -1/2$
- 2) графики функций $y = 4^x$ и $y = \log_a x$ пересекаются в точке с абсциссой $x = 1/2$
- 3) графики функций $y = 25^x$ и $y = \log_a(-x)$ пересекаются в точке с абсциссой $x = -1/2$
- 4) уравнение $\log(9^x + 9a^3) = x$ имеет два различных корня
- 5) графики функций $y = 4^x$ и $y = \log(-x)$ пересекаются в точке с абсциссой $x = -1/2$
- 6) $\lg(x^2 + 2ax) - \lg(8x - 6a - 3) = 0$ уравнение имеет единственное решение

7) уравнение $\lg(x^2 + ax) = \lg(4x - a - 4)$ имеет единственное решение

8) уравнение $\log(x + a) = 1$ не имеет решений

9) уравнение $2\lg(x + 3) = \lg(ax)$ имеет единственное решение.

Заключение

В школьном курсе математике изучаются логарифмические уравнения и неравенства и способы их решения очень сжато. Потребности учебного процесса требуют от учеников больших знаний и умений. В материалах ЕГЭ и на олимпиадах часто встречаются задания с логарифмическими уравнениями и неравенствами. В своей работе мы рассмотрели различные методы решений логарифмических уравнений и неравенств: использования определения логарифма, потенцирования, перехода к одному основанию, логарифмирования, функционально - графический, рационализации, использования свойств логарифмической функции. Результаты данной работа могут быть использованы при подготовке к выпускным и вступительным экзаменам, и на факультативных занятиях для расширения математического кругозора учащихся.

Перечень рекомендуемых учебных изданий, дополнительной литературы, Интернет-ресурсов.

Основные источники:

1. Башмаков М.И. Математика: учеб.для студ. Учреждений сред. Проф. Образования / - 5-е изд., стер. - М.: Издательский центр "Академия" , 2018.-256с.
2. Математика: задачник: учеб. пособие для студ.учреждений сред.проф.образования / М.И. Башмаков.- 5-е изд., стер.- М.: ИЦ "Академия" 2018.-416с.
3. Математический практикум по курсу «Математика». 11 класс: [12+] / В.В. Козлов, А.А. Никитин, В.С. Белоносков и др.; под ред. В.В. Козлова, А.А. Никитина. – Москва: Русское слово — учебник, 2017. – 145с. – (Инновационная школа). – Режим доступа: по подписке. – URL: <https://biblioclub.ru/index.php?page=book&id=486029> – ISBN 978-5-533-00334-6.

Дополнительные источники:

1. Математический практикум по курсу «Математика». 10 класс: контрольно-измерительные материалы/ В.В. Козлов, А.А. Никитин, В.С. Белоносков и др.; под ред. В.В.Козлова, А.А.Никитина - Москва: Русское слово – учебник, 2016. – 161с. [Электронный ресурс]-URL: <http://biblioclub.ru/index.php?page=book&id=486028>
2. Математический практикум по курсу «Математика». 11 класс: контрольно-измерительные материалы/ В.В. Козлов, А.А. Никитин, В.С. Белоносков и др; под ред. В.В.Козлова, А.А.Никитина - Москва: Русское слово – учебник, 2017. – 145с. - [Электронный ресурс] URL: <http://biblioclub.ru/index.php?page=book&id=486029>
3. Барвенов С.А. Математика: супертренинг для подготовки к тестированию и экзамену : [12+] / С.А. Барвенов. – Минск: Тетралит, 2018. – 112с.: табл. – Режим доступа: по подписке. – URL:<https://biblioclub.ru/index.php?page=book&id=571630>. – ISBN 978-985-7171-17-0.

Интернет-ресурсы:

1. Булгаков Н.А., Осипова И.А. Основные законы и формулы по математике и физике. Режим доступа: [<http://window.edu.ru/resource/797/56797> 12.05.2020].
2. Вся математика. Режим доступа: [<http://www.allmath.ru> 16.05.2020].
3. Математика – это просто. Режим доступа: [<http://easymath.com.ua> 16.05.2020].
4. Материал по различным разделам математики. Режим доступа: [<http://www.mathematics.ru> 12.05.2020].
5. Прикладная математика: справочник математических формул. Режим доступа: [<http://www.pm298.ru/> 12.05.2020].
6. Справочник по школьной математике. Режим доступа: [<http://www.terver.ru> 12.05.2020].